

NOM, Prénom :

1. Je sais me repérer dans le manuel...



Complète en utilisant ton manuel d'histoire géographique.

Quelles sont les pages sur la Renaissance ? ...de la page : à la page :

A quelle page peux-tu trouver la définition du mot : **mot au choix** ? ...à la page :

Cherche un document sur la montagne. Écris la page, le numéro du document et son titre.

...à la page : document : avec pour titre :

A quelle page peux-tu trouver des informations sur l'armée napoléonienne ? ...à la page :

Réponses différentes suivant les manuels...

2. Je sais utiliser les notions : avant, pendant et après...



Voici les dates du règne personnel de Louis XIV : 1661-1715

Indique, en entourant la bonne réponse, si les événements suivants ont eu lieu AVANT, PENDANT ou APRÈS son règne.

La prise de la Bastille (1789) : avant - pendant - **après**

La bataille de Poitiers (732) : **avant** - pendant - après

La mort du pharaon Chéops (2566 avant JC) : **avant** - pendant - après

L'élection du Président François Mitterrand (1981) : avant - pendant - **après**

La bataille d'Alésia (52 avant JC) : **avant** - pendant - après

La mort de Molière (1673) : avant - **pendant** - après

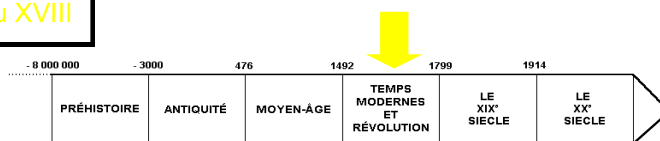
3. Je sais distinguer millénaire, siècle, période, date...



En t'aidant de l'exercice précédent, réponds aux questions ci-dessous.

A quel siècle a eu lieu la prise de la Bastille ? **18ème ou XVIII**

Colorie la période correspondante sur la frise ci-contre :



4. Je sais utiliser les points cardinaux...

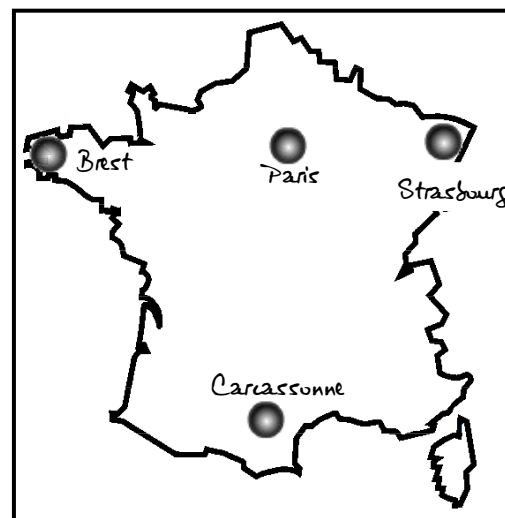


En utilisant les points cardinaux et la carte ci-contre, indique dans quelle direction tu vas lorsque tu vas :

De Carcassonne à Paris : vers le : **nord**

De Strasbourg à Paris : vers le : **ouest**

De Brest à Paris : vers le : **est**

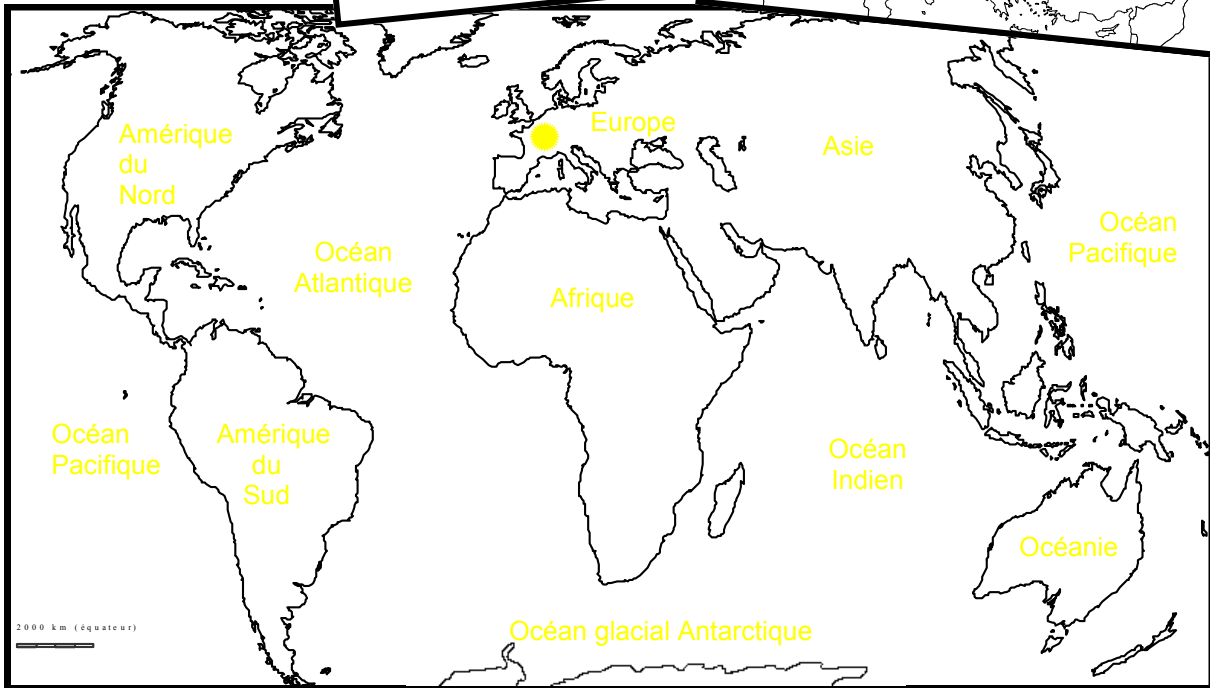
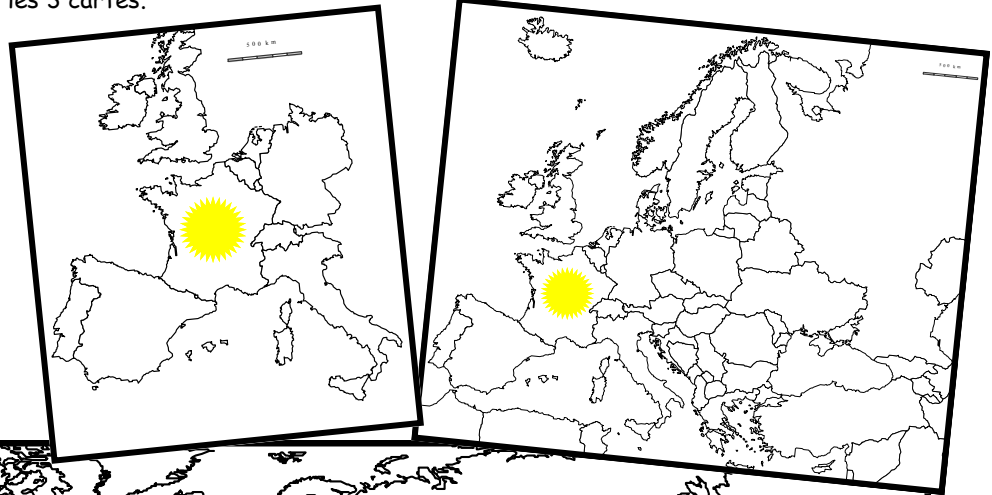


5. Je sais localiser les continents et les océans sur des cartes à différentes échelles...




♦ Colorie la France sur les 3 cartes.

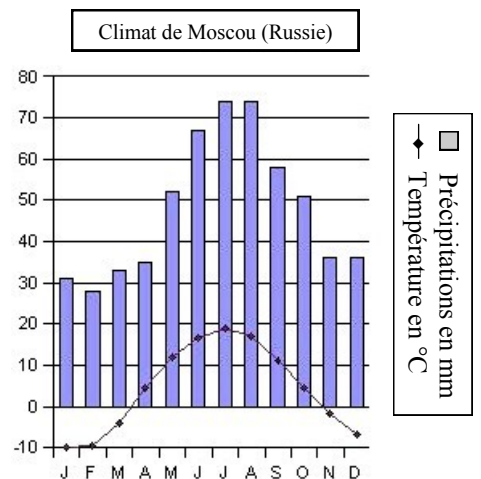
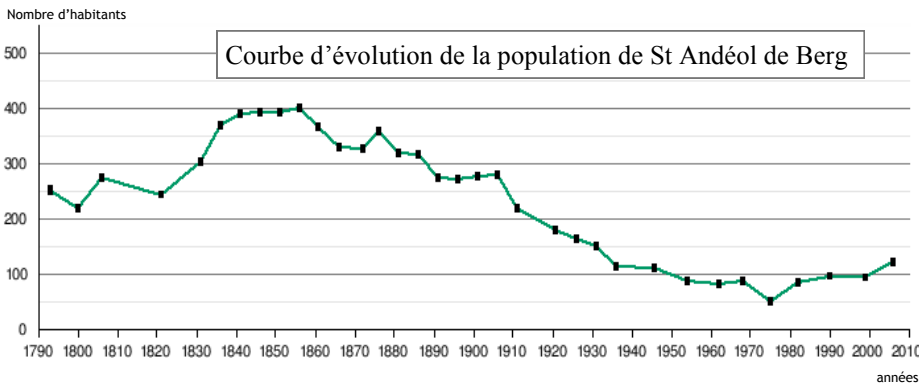
♦ Écris le nom des océans et des continents sur le planisphère ci-dessous.



6. Je sais identifier un document et y prélever des informations...



Observe attentivement les documents ci-dessous puis réponds aux questions.



Combien y avait-il d'habitants à St Andéol de Berg en 1830 ? **Env. 300**

Quelle est la température moyenne à Moscou au mois de juillet ? **Env. 20°C**


7. Je sais classer des informations...



Observe bien la photographie au tableau et complète les cases ci-dessous.

Eléments naturels	Eléments humains
Le ciel/les nuages	Les immeubles/maisons
La montagne	Les pistes de ski
La forêt	La route/le chemin dans la montagne
La prairie fleurie	Le terrain de tennis

8. Je sais dégager une idée générale avec des phrases...

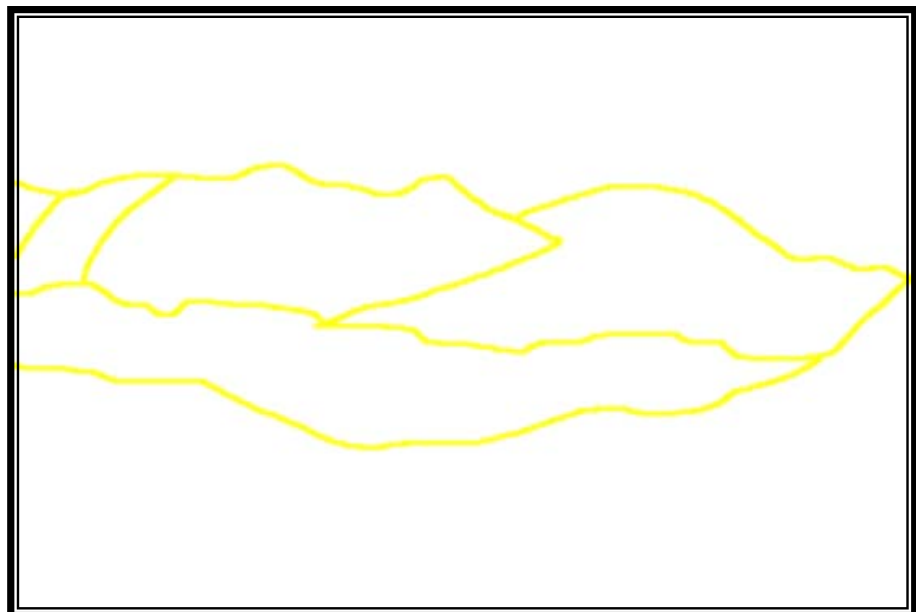


Décris l'image précédente en deux ou trois phrases.

9. Je sais faire un croquis ordonné d'un paysage simple...



♦ Réalise un croquis de ce paysage.



♦ Donne-lui un titre →

10. Je sais identifier un document...



Observe le document ci-dessous puis identifie-le.

Goma : la misère

A Goma, une ville de République Démocratique du Congo, de nombreux enfants vivent dans des cabanes. Le bidonville de Birere, dans le nord de Goma, est l'un des plus grands de la ville. Il n'y a pas d'eau, pas l'électricité. Les gens qui y vivent sont très pauvres. Dans le bidonville de Chetcheni, 500 familles vivent dans le dénuement** total. Elles ont tout perdu lors de l'éruption du volcan Nyiragongo en 2002, situé juste à côté de Goma. Leurs maisons et tout ce qui s'y trouvait ont été détruits.*

B.Quattrone, Le Petit Quotidien, 18 octobre 2006

* un bidonville : un groupe d'habitations construites avec des matériaux de récupération (planches, tôles...)

** le dénuement : le manque de l'essentiel pour vivre normalement.

Date : 18 octobre 2006 Auteur : B. Quatttone Nature : Texte - article de journal

Titre : Goma : la misère Époque : XX° siècle

11. Je sais recopier sans erreur...



Recopie la première phrase.

12. Je sais prélever des informations et les présenter dans une phrase...



Réponds à la question ci-dessous en puisant la réponse dans le texte.

Quelle est la cause de la destruction des maisons du bidonville de Chetcheni ?

L'éruption du volcan Nyiragongo en 2002 est la cause de la destruction du bidonville de Chetcheni.

13. Je sais rédiger une ou deux phrases de résumé...



Raconte en une ou deux phrases de quoi parle le texte.

14. Je sais établir des relations entre des documents de différente nature...



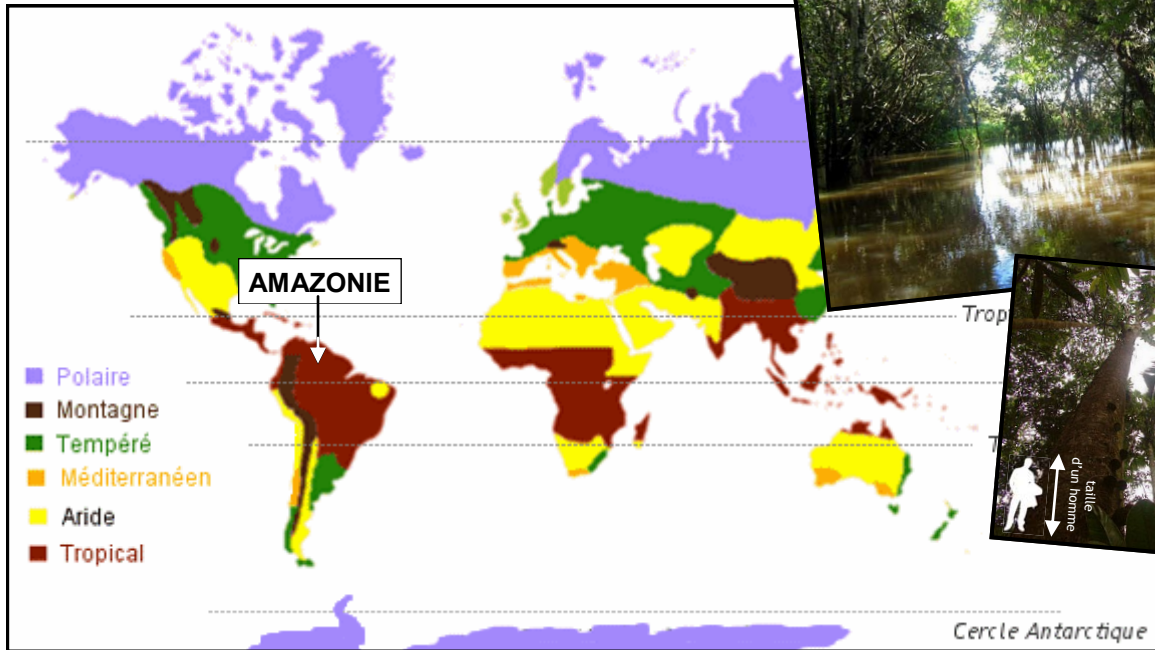
Présente l'Amazonie en utilisant les documents ci-dessous.

Informations tirées des documents : _____

Mots clés : climat équatorial/tropical - pluies - chaleur - végétation luxuriante - inondations - jungle...

Alors je peux dire : _____


Les climats du Monde



15. Je sais justifier un point de vue...



Ce test t'a-t-il semblé facile ou difficile ? Justifie ta réponse.





Les climats du Monde

